


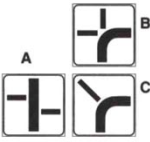









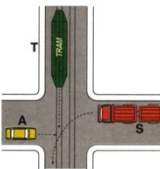


Patente Richiesta: B	Domande: 30, Risposte Esatte: 23, Risposte Errate: 7, Esito Esame: RESPINTO	
	<p>1) Chi intende cambiare corsia ha l'obbligo di segnalare la manovra con l'uso dell'avvisatore acustico (clacson o trombe)</p>	<p><input type="checkbox"/> <input checked="" type="checkbox"/></p>
	<p>2) Durante la sosta il conducente deve adottare accorgimenti atti a garantire l'immobilità del veicolo, indipendentemente dal grado di pendenza della strada</p>	<p><input checked="" type="checkbox"/> <input checked="" type="checkbox"/></p>
	<p>3) Il postino, durante l'attività lavorativa, non ha l'obbligo di agganciare la cintura di sicurezza</p>	<p><input type="checkbox"/> <input checked="" type="checkbox"/></p>
	<p>4) Un ferito in stato di shock va disteso, tenendo possibilmente le gambe sollevate</p>	<p><input checked="" type="checkbox"/> <input type="checkbox"/></p>
	<p>5) Il segnale raffigurato indica da quale direzione proviene il vento</p>	<p><input checked="" type="checkbox"/> <input type="checkbox"/></p>
	<p>6) Il segnale raffigurato preannuncia una strettoia</p>	<p><input type="checkbox"/> <input checked="" type="checkbox"/></p>
	<p>7) Le corsie A, B e C rappresentate in figura consentono al conducente di andare in tutte le direzioni</p>	<p><input type="checkbox"/> <input checked="" type="checkbox"/></p>
	<p>8) I pannelli integrativi in figura indicano come lasciare il veicolo in sosta</p>	<p><input type="checkbox"/> <input checked="" type="checkbox"/></p>
	<p>9) Il conducente di un veicolo può approfittare della potenza del proprio veicolo per non dare la precedenza a chi spetta</p>	<p><input type="checkbox"/> <input checked="" type="checkbox"/></p>
	<p>10) Il segnale raffigurato indica i passaggi consentiti a destra e a sinistra di un'isola di traffico</p>	<p><input checked="" type="checkbox"/> <input type="checkbox"/></p>



Patente Richiesta: B	Domande: 30, Risposte Esatte: 23, Risposte Errate: 7, Esito Esame: RESPINTO	
	<p>11) Il semaforo in figura indica i possibili scambi dei binari tranviari</p>	<input checked="" type="checkbox"/> <input checked="" type="checkbox"/>
	<p>12) La velocità deve essere moderata fuori dai centri abitati</p>	<input checked="" type="checkbox"/> <input checked="" type="checkbox"/>
	<p>13) In presenza del segnale di STOP non occorre arrestarsi, se non vi è la linea trasversale di arresto e non si vedono sopraggiungere veicoli</p>	<input checked="" type="checkbox"/> <input checked="" type="checkbox"/>
	<p>14) La manovra di svolta a sinistra è particolarmente pericolosa per un ciclomotore che deve interferire con la traiettoria di una o più colonne di veicoli più veloci sopraggiungenti nella stessa direzione</p>	<input checked="" type="checkbox"/> <input checked="" type="checkbox"/>
	<p>15) La patente AM abilita alla guida di motocicli, purché dotati di motore elettrico</p>	<input checked="" type="checkbox"/> <input checked="" type="checkbox"/>
	<p>16) La responsabilità civile connessa al sinistro stradale si limita al risarcimento dei danni alle sole cose</p>	<input checked="" type="checkbox"/> <input checked="" type="checkbox"/>
	<p>17) In presenza del segnale raffigurato e del semaforo a tre luci abbiamo la precedenza se il semaforo è spento e l'agente del traffico ci ordina di fermarci</p>	<input checked="" type="checkbox"/> <input checked="" type="checkbox"/>
	<p>18) Il delineatore raffigurato è posto in un incrocio dove non è possibile proseguire diritto</p>	<input checked="" type="checkbox"/> <input checked="" type="checkbox"/>
	<p>19) La distanza di sicurezza può essere maggiore dello spazio percorso nel tempo di reazione</p>	<input checked="" type="checkbox"/> <input checked="" type="checkbox"/>
	<p>20) La manovra di sorpasso si effettua, di norma, a sinistra</p>	<input checked="" type="checkbox"/> <input checked="" type="checkbox"/>



Patente Richiesta: B	Domande: 30, Risposte Esatte: 23, Risposte Errate: 7, Esito Esame: RESPINTO	
	<p>21) Il simbolo raffigurato è posto sulla spia che individua l'indicatore della temperatura dell'olio che circola nel motore</p>	<input checked="" type="checkbox"/> <input checked="" type="checkbox"/>
	<p>22) Se un infortunato della strada ha una ferita sanguinante la si deve coprire con materiale sterile o quanto più possibile pulito, per bloccare il sanguinamento</p>	<input checked="" type="checkbox"/> <input checked="" type="checkbox"/>
	<p>23) Il servosterzo aiuta a controllare la traiettoria del veicolo in caso di foratura di un pneumatico</p>	<input checked="" type="checkbox"/> <input checked="" type="checkbox"/>
	<p>24) Il segnale raffigurato prescrive di dare la precedenza ai veicoli provenienti da sinistra</p>	<input checked="" type="checkbox"/> <input checked="" type="checkbox"/>
	<p>25) Il segnale raffigurato preavvisa uno svincolo autostradale</p>	<input checked="" type="checkbox"/> <input checked="" type="checkbox"/>
	<p>26) Il valore della distanza di sicurezza deve essere stabilito anche in base all'entità del carico</p>	<input checked="" type="checkbox"/> <input checked="" type="checkbox"/>
	<p>27) Dovendo attraversare l'incrocio rappresentato in figura i veicoli A e S transitano contemporaneamente dopo il passaggio del veicolo T</p>	<input checked="" type="checkbox"/> <input checked="" type="checkbox"/>
	<p>28) Il conducente di un autocarro fermo al semaforo deve prevedere la presenza di pedoni e ciclisti il cui avvistamento è precluso dalla sagoma del proprio veicolo</p>	<input checked="" type="checkbox"/> <input checked="" type="checkbox"/>
	<p>29) Quando bisogna far salire o scendere un passeggero, è opportuno che ciò avvenga dal lato del marciapiede o, in mancanza, dal lato opposto al traffico</p>	<input checked="" type="checkbox"/> <input checked="" type="checkbox"/>
	<p>30) L'inquinamento dell'aria prodotto dai veicoli a motore può diminuire se si sistemano i bagagli sul tetto dell'autovettura</p>	<input checked="" type="checkbox"/> <input checked="" type="checkbox"/>